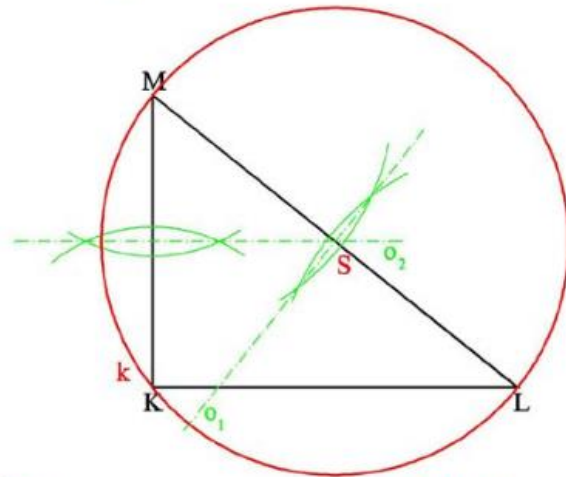
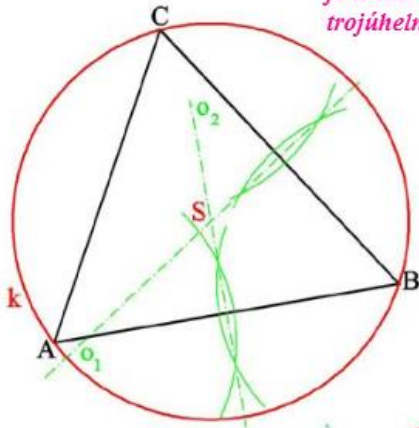
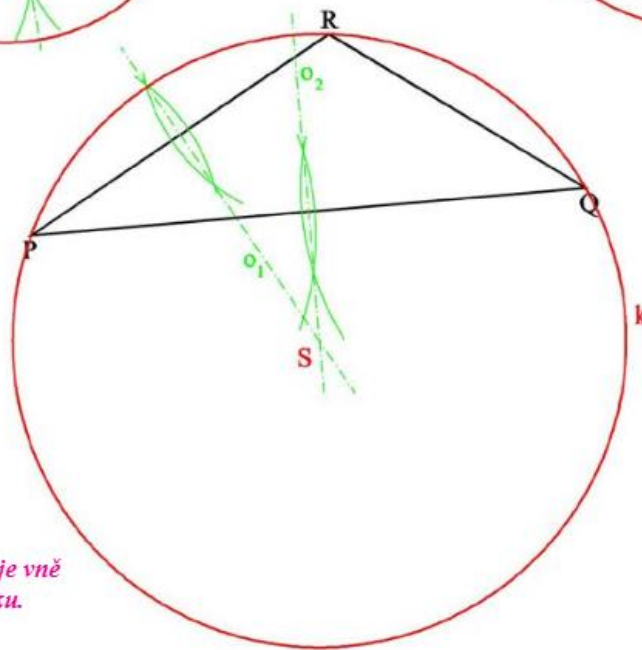


A-1. Na obrázku je **ostroúhlý**, **tupoúhlý** a **pravouhlý** trojúhelník. **Opište** jim kružnici a všimněte si změny polohy středu kružnice opsané.

Střed kružnice opsané je uvnitř ostroúhlého trojúhelníku.



Střed kružnice opsané je ve středu přepony pravouhlého trojúhelníku.



Střed kružnice opsané je vně tupoúhlého trojúhelníku.